


## الفصل الخامس

# الشغل والطاقة

# Work & Energy

# المحتويات Contents

Concept of work	• مفهوم الشغل
Types of the work	• أنواع الشغل
الطاقة	
Energy	
Forms of energy	• أشكال الطاقة
Power	• القدرة
Heat and Temperature	• الحرارة ودرجة الحرارة
Renewable Energy Sources	• مصادر الطاقة المتجددة



الشغل الفيزيائي

????????

# • مفهوم الشغل

## The concept of the work

---

• الشغل الفيزيائي ( $W$ ) هو:  
كمية الطاقة المتحوّلة لتحريك جسم  
ما بقوة وازاحة محددة.  
عندما تؤثر قوة على جسم فتحرّكه،  
نقول أن القوة عملت شغلا.

. الوحدة الدولية للشغل هي  
**الجول**، وهو الشغل الناتج من  
تأثير قوة مقدارها **1 نيوتن**  
وتحدثت ازاحة للجسم بمقدار **1**  
**م** باتجاه القوة.

الشغل = القوة × الإزاحة

ك × ج × ف =

نيوتن × م = جول

$w = \vec{F} \times \vec{d} = \text{joule}$

**مثال:**

**شخص رفع جسم كتلته 50 كغم**

**الى ارتفاع 5م، احسب الشغل**

**الذي بذله ذلك الشخص**

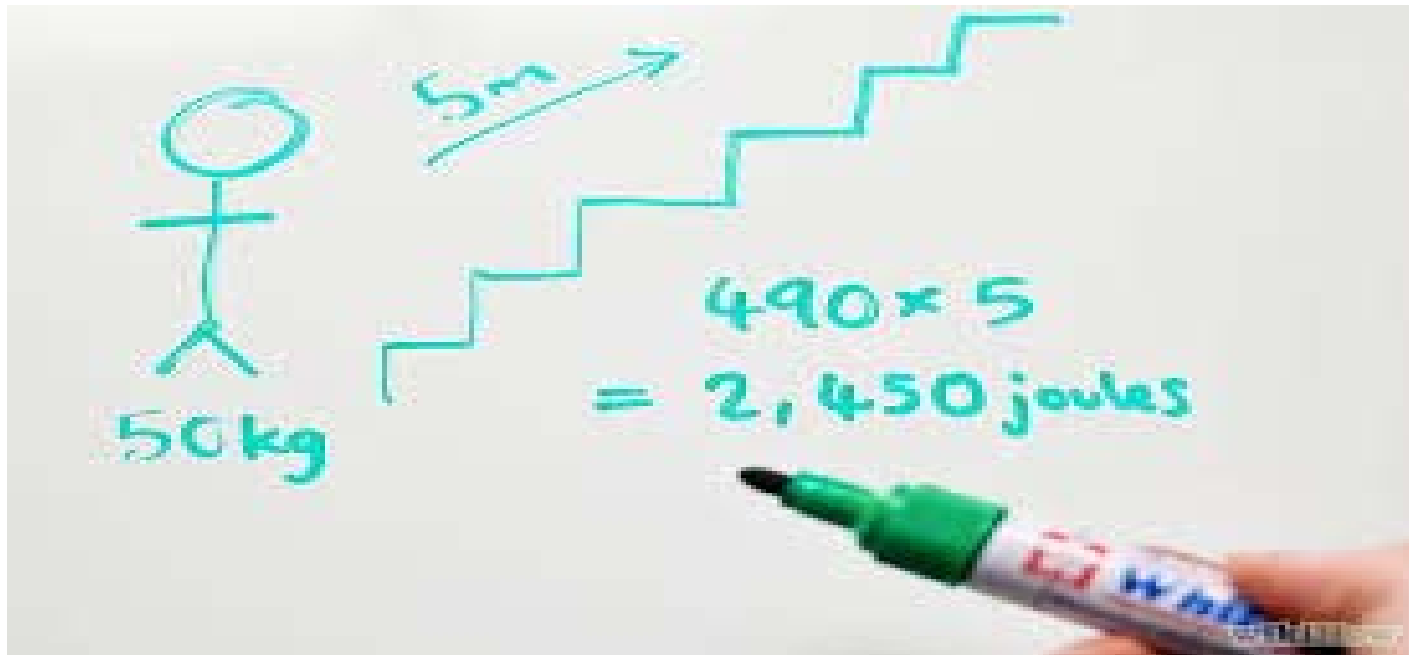
**(بوحدّة جول)??**

# الحل:

$$\text{الشغل} = \text{ك} \times \text{ج} \times \text{ف} \leftarrow$$

$$= 50 \text{ كغم} \times 9.8 \text{ م/ث}^2 \times 5 \text{ م}$$

$$= 2450 \text{ جول}$$

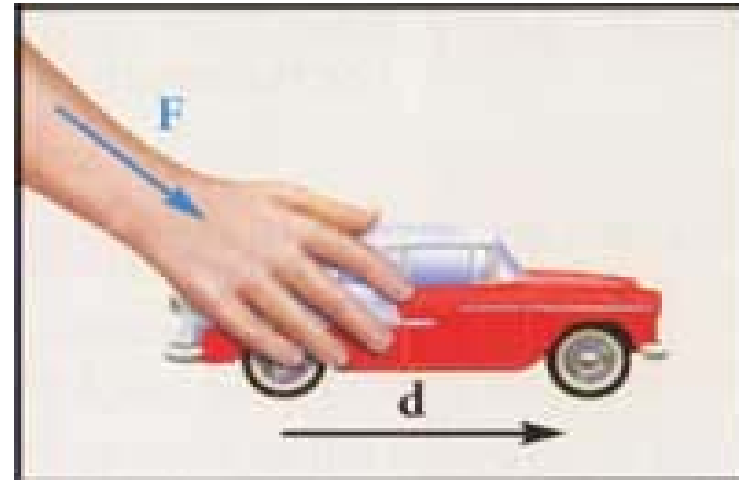
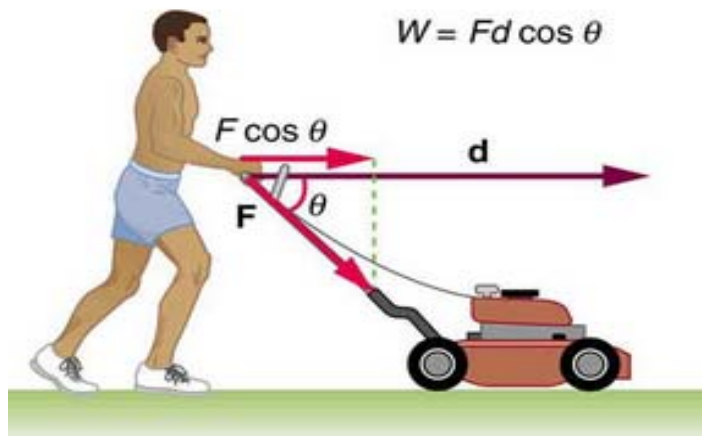




# أنواع الشغل Types of the work

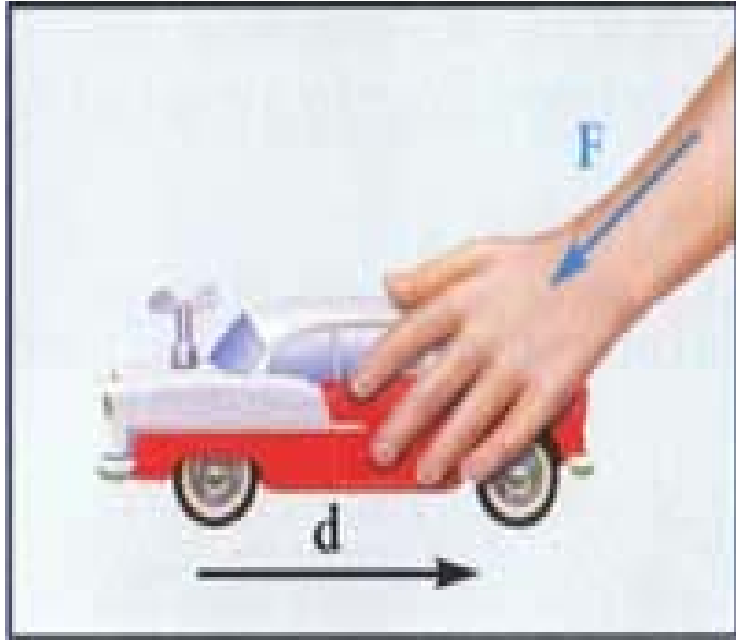
## 1. الشغل الموجب Positive Work

هو تحريك الجسم بنفس اتجاه القوة المؤثرة عليه.



## 2. الشغل السالب Negative Work

هو تحريك الجسم باتجاه معاكس لاتجاه القوة المؤثرة عليه.



مثال:

الشغل الذي تنجزه  
قوة الاحتكاك

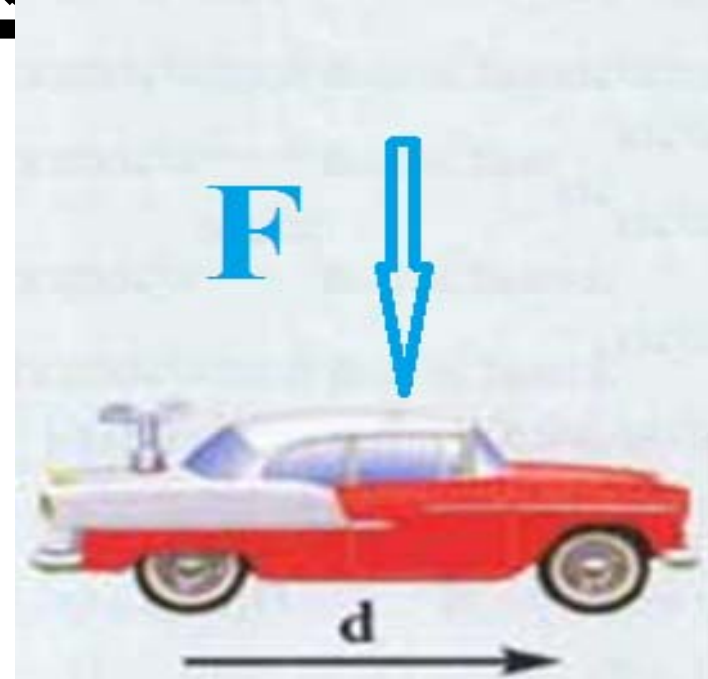
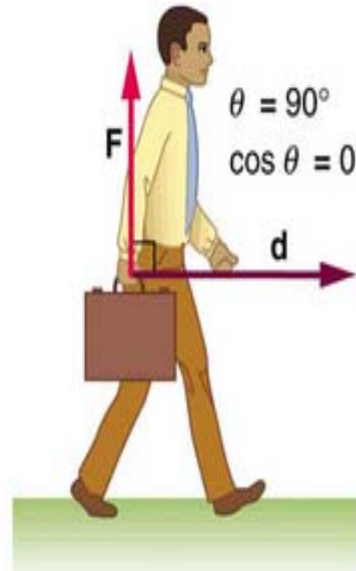
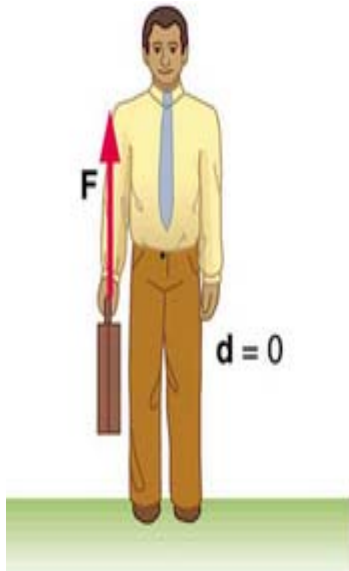
رفع جسم من سطح

الارض إلى إرتفاع معين ضد الجاذبية الأرضية.

# 3. الشغل يساوي صفر **Work equal**

**zero**

عند تأثير قوة في اتجاه عمودي على  
الازاحة فان الشغل يكون الازاحة صفر



# الطاقة Energy

---

الطاقة هي المقدرة على القيام

بشغل، اي المقدرة على **بذل شغل**

# Forms of energy

## • أشكال الطاقة

1- الطاقة الميكانيكية.

2- الطاقة الكهربائية.

3- الطاقة الحرارية.

4- الطاقة الصوتية.

5- الطاقة الضوئية.

6- الطاقة الكيميائية.

7- الطاقة النووية.

# Conservation of ENERGY & ENERGY Conservation



## 7 Forms of ENERGY

Conservation of Energy - Energy cannot be created nor destroyed, it can only be transformed from one form to another.



**MECHANICAL**



**SOUND**  
Wave Motion



**CHEMICAL**



**ELECTRICAL**



**LIGHT**  
Radiant



**HEAT**  
Thermal



**NUCLEAR**



# الطاقة الميكانيكية **Mechanical**

## **Energy**

هي الطاقة المتمثلة في حركة الاجسام  
ومرونتها، وتقسم الى **نوعين** هما:

1. الطاقة الحركية **Kinetic energy**

2. الطاقة الكامنة **Potential Energy**

1. الطاقة الحركية **Kinetic energy**

وتظهر على شكل حركة.

2. الطاقة الكامنة **Potential Energy**

وهي الطاقة التي يحتفظ بها

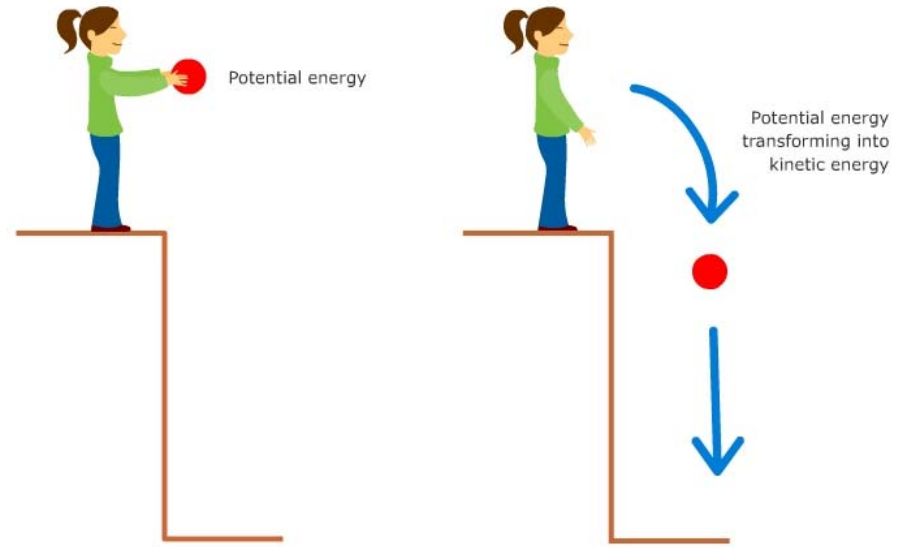
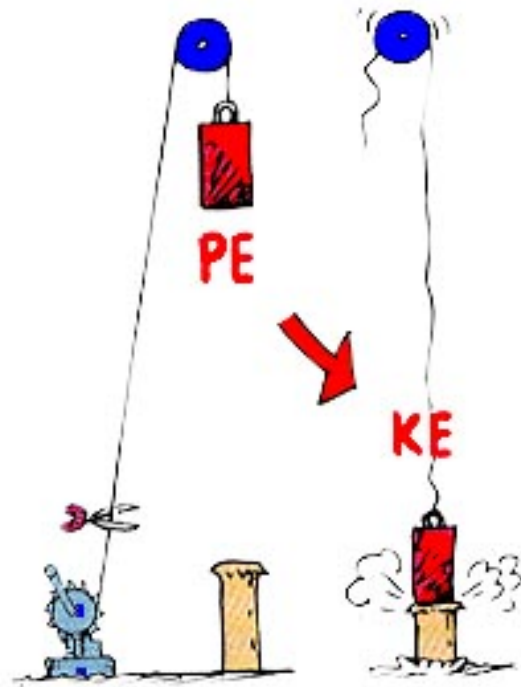
الجسم بسبب **وضعه** او

**تركيبته**.



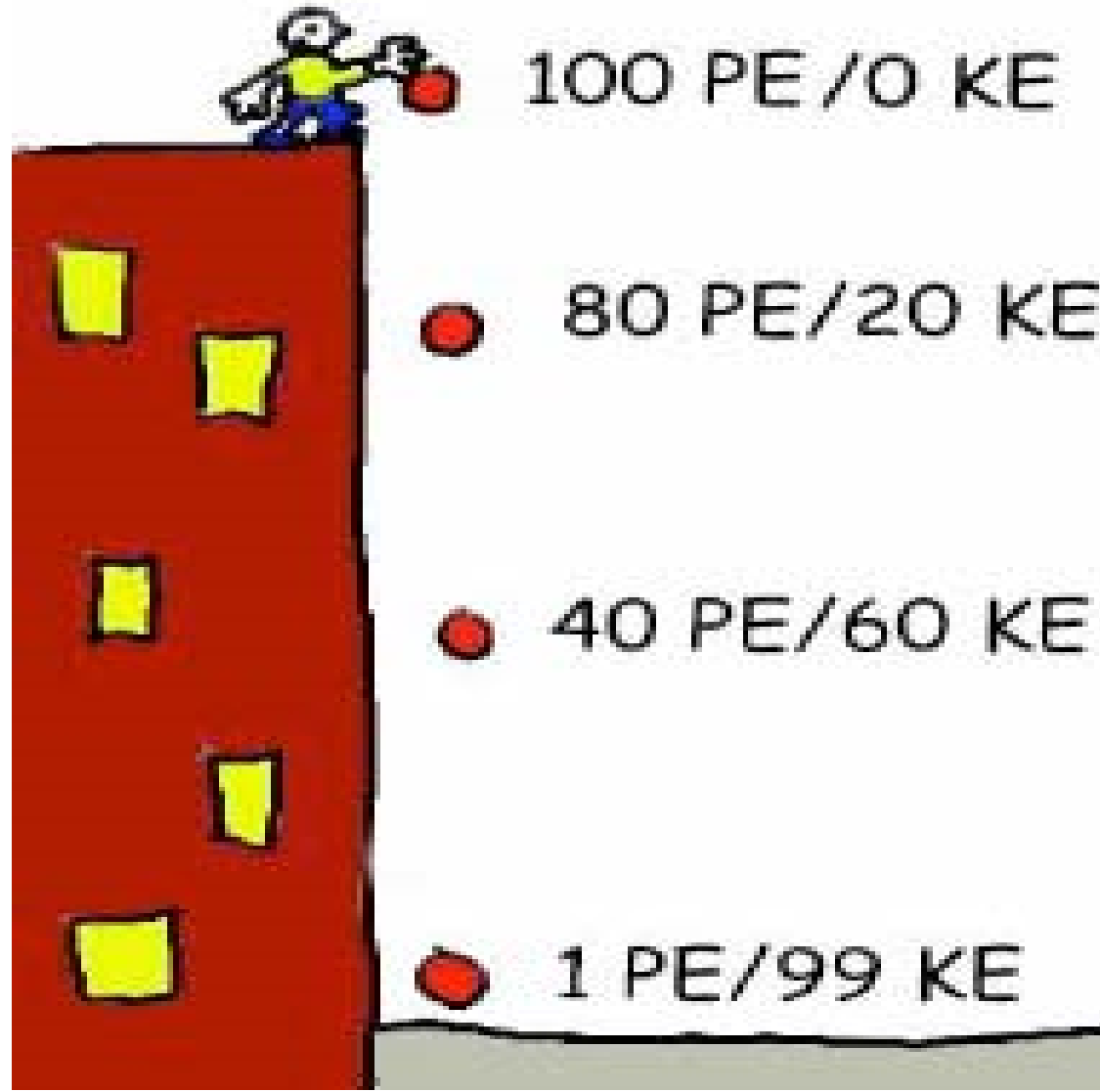
# تحولات الطاقة الميكانيكية

## (العلاقة بين الطاقة الحركية والكامنة)



© 2007-2010 The University of Waikato | [www.sciencelearn.org.nz](http://www.sciencelearn.org.nz)

# العلاقة بين الطاقة الحركية والكامنة .



1. الطاقة الحركية للجسم: هي الطاقة التي يمتلكها الجسم، وتعتمد على كتلة الجسم ومربع سرعته

$$ط ح = \frac{1}{2} ك ع^2$$

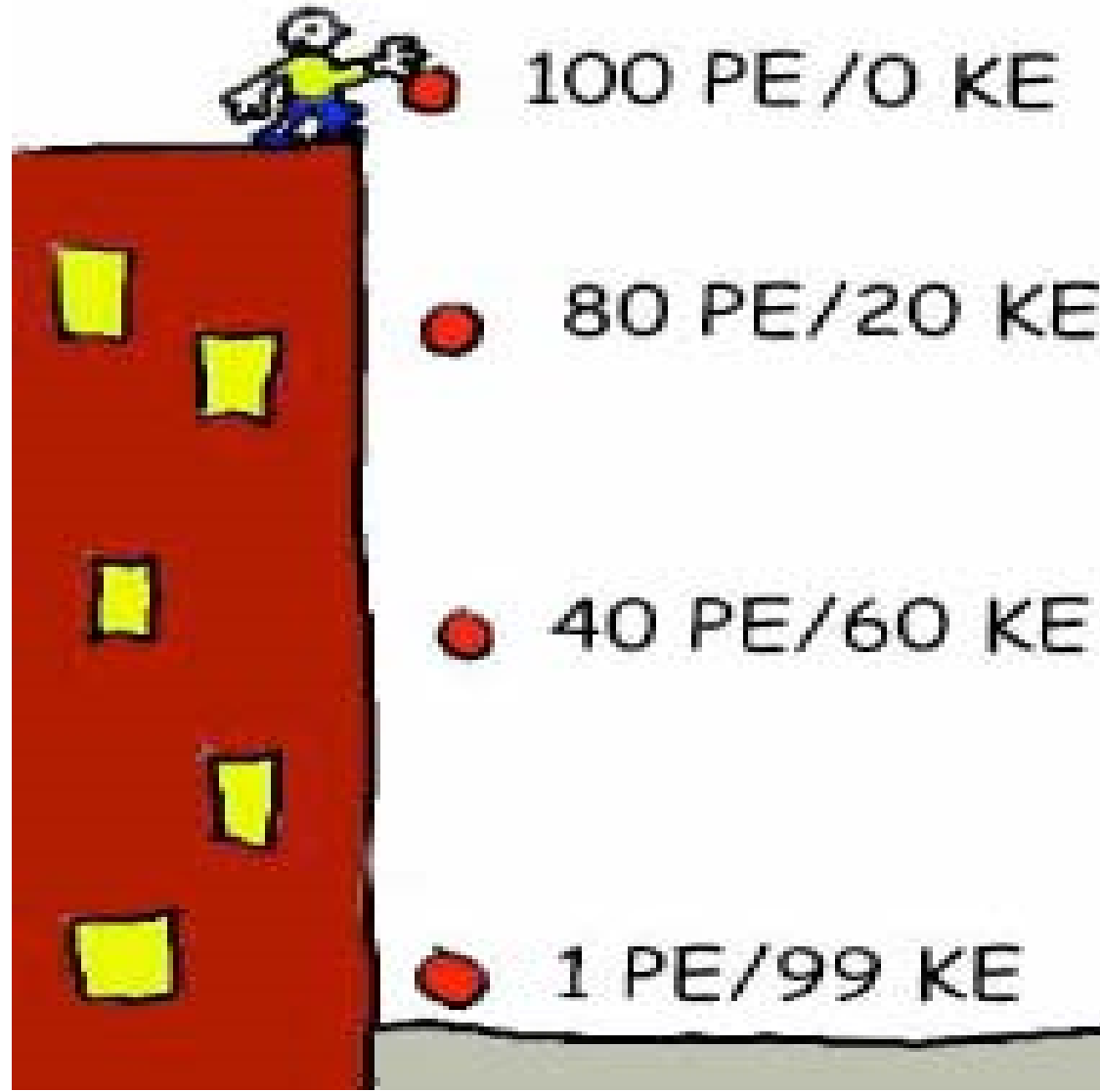
2. الطاقة الكامنة للجسم: هي الطاقة  
المكتسبة من الشغل المبذول عليه  
ومساوية له بالمقدار

$$ط = ك \times ج \times ف$$

**مثال:** جسم كتلته **10 كغم** موضوع على سطح بناء ارتفاعه **10 م**.  
احسب طاقة الحركة (ط<sub>ح</sub>) وطاقة الوضع (ط<sub>و</sub>) للجسم في الحالات التالية:

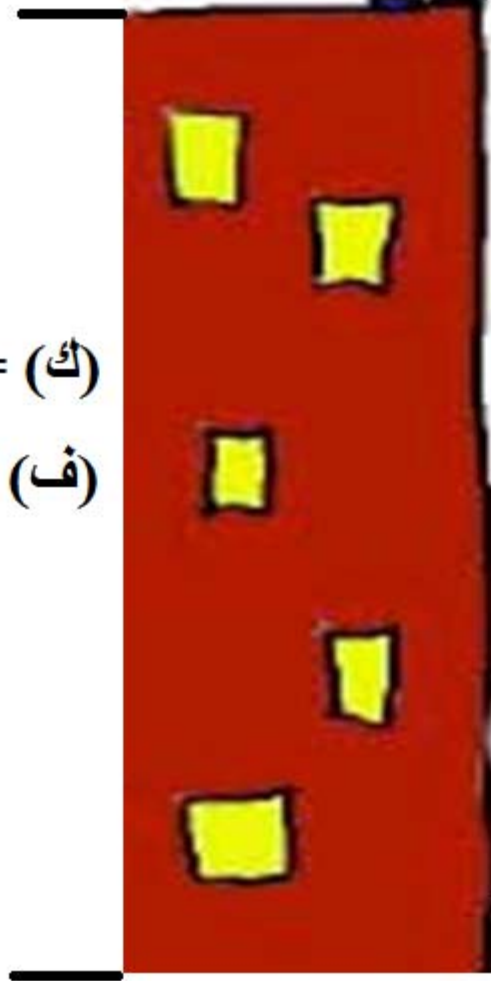
1. قبل سقوط الجسم سقوطاً حراً
2. بعد ثانية من السقوط
3. قبل ارتطامه بسطح الأرض مباشرة

# العلاقة بين الطاقة الحركية والكامنة .



(ك) = 10 كغم

(ف) = 10 م



1. قبل السقوط الحر

ط<sub>ح</sub>، ط<sub>و</sub> = ?????

2. بعد ثانية من السقوط

ط<sub>ح</sub>، ط<sub>و</sub> = ?????

3. قبل الارتطام بسطح الارض مباشرة

ط<sub>ح</sub>، ط<sub>و</sub> = ?????

# الحل:

1. قبل سقوط الجسم سقوطاً حراً

طاقة الحركة = صفر

طاقة الوضع = ك ج ف

$$= 10 \text{ كغم} \times 9.8 \text{ م/ث}^2 \times 10 \text{ م}$$

$$= 980 \text{ جول}$$



## 2. بعد ثانية من السقوط

$$\text{طاقة الحركة} = \frac{1}{2} \text{ك ع}^2$$

سرعة الجسم بعد ثانية ← ع = ج × ن

$$= 9.8 \text{ م/ث}^2 \times 1 \text{ ث} = 9.8 \text{ م/ث}$$

$$\text{طاقة الحركة} = \frac{1}{2} \times 10 \text{ كغم} \times (9.8 \text{ م/ث})^2$$

$$= 480.2 \text{ جول}$$

$$\text{طاقة الوضع} = 980 - 480.2 = 499.8 \text{ جول}$$

### 3. قبل ارتطامه بسطح الارض مباشرة

طاقة الوضع = ك × ج × ف

حيث **ف** = صفر

→ طاقة الوضع = 10 كغم × 9.8 م/ث<sup>2</sup> × 0

= 0 جول


طاقة الحركة = 980 - 0

= 980 جول

# القدرة Power

هي الشغل المبذول في وحدة الزمن، ووحدتها الواط (**Watt**)

$$\text{القدرة} = \frac{\text{الشغل}}{\text{الزمن}} = \frac{\text{جول}}{\text{ثانية}} = \text{واط}$$



**مثال:** رافعة ترفع جسما  
كتلته **200** كغم الى ارتفاع  
**20** م خلال **20** ثانية،  
احسب قدرة الرافعة بوحدة  
(واط).

# الحل:

$$\text{القدرة} = \frac{\text{الشغل}}{\text{الزمن}} = \frac{\text{جول}}{\text{ثانية}} = (\text{واط})$$

$$\text{الشغل} = \text{القوة} \times \text{الازاحة} = \text{ك} \times \text{ج} \times \text{ف}$$

$$= 200 \text{ كغم} \times 9.8 \text{ م/ث}^2 \times 20 \text{ م}$$

$$= 39200 \text{ جول}$$

$$\text{القدرة} = \frac{39200 \text{ جول}}{20 \text{ ثانية}} = 1960 \text{ واط}$$

. الحرارة (الطاقة الحرارية) هي إحدى أشكال الطاقة ينتج من تحول شكل آخر من أشكال الطاقة. تعتمد كمية الحرارة في جسم ما على ثلاثة عوامل:

1. كتلة الجسم
  2. درجة حرارة الجسم
  3. نوع مادة الجسم (الحرارة النوعية)
- . تنتقل الحرارة من الجسم الأعلى درجة الحرارة إلى الجسم الأقل درجة الحرارة.

# درجة الحرارة **Temperature**

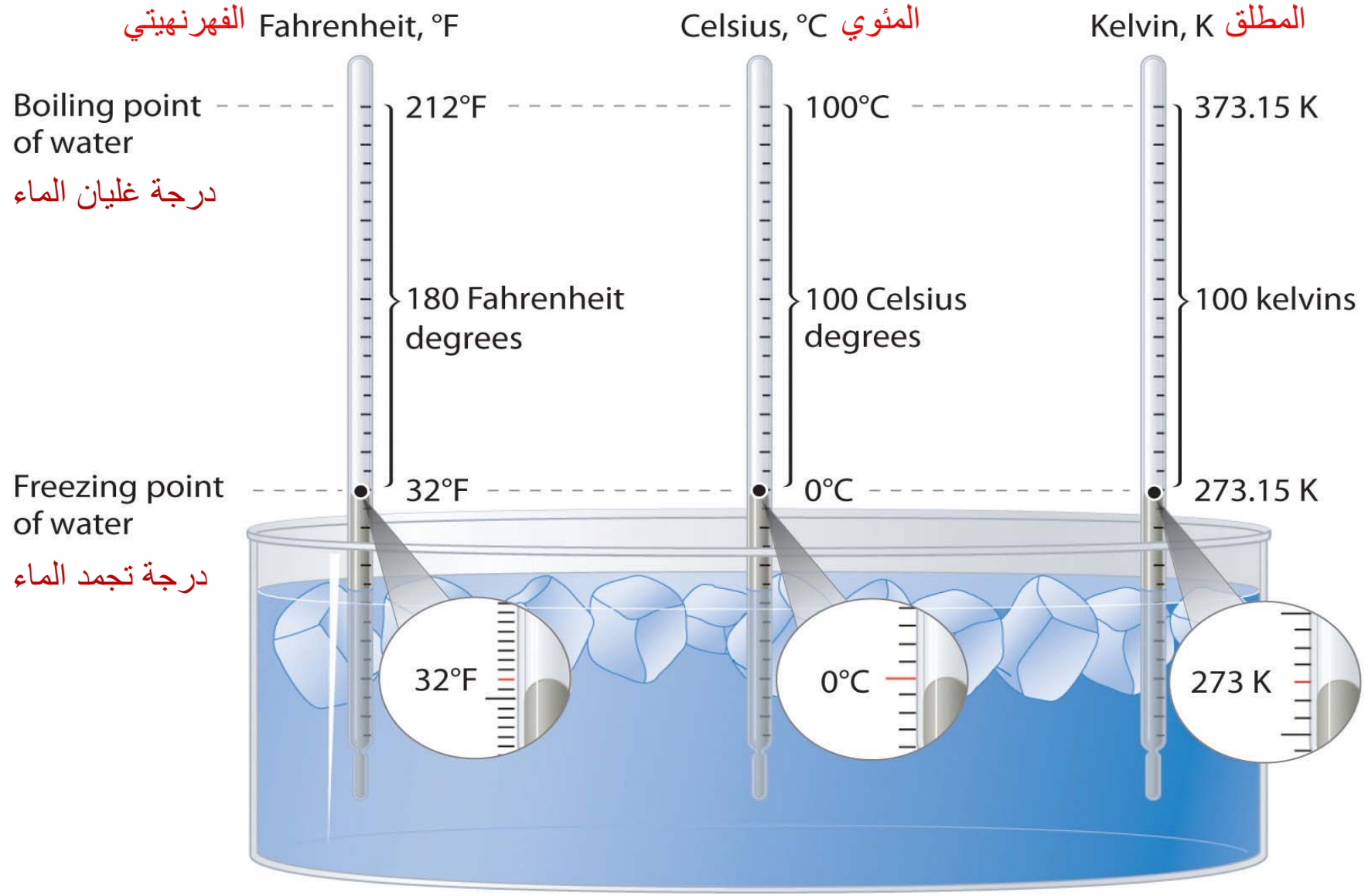
هي مقياس لمدى سخونة جسم ما أو برودته

هناك ثلاثة مقاييس لدرجة الحرارة وهي:

1. المقياس **الفهرنهايتي**

2. المقياس **المئوي**

3. المقياس **المطلق**





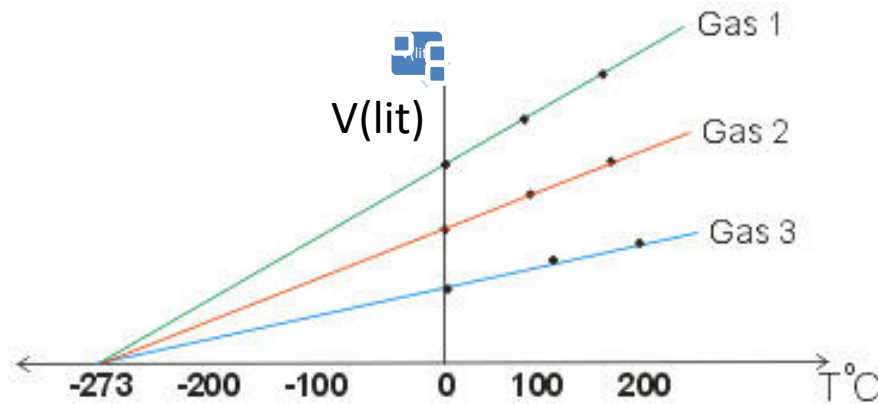
.المقياس المطلق والصفء المطلق لقياس

## درجة الحرارة Kelvin scale

الصفء المطلق هي الدرجة التي يصبح عندها حجم الغاز المثالي يساوي صفءا

هناك دراسة للعلاقة بين ضغط الغازات ودرجة الحرارة لأكثر من غاز.

النتيجة: أن جميع الغازات يقل حجمها بنقصان درجة الحرارة وأن الحجم يصبح صفء نظرياً عند درجة حرارة ومقدارها  $-273\text{ }^{\circ}\text{C}$  (الصفء المطلق)



## علاقات رياضية للتحويل بين مقاييس درجات الحرارة

1. من المقياس **الفهرنهايتي** الى المقياس **المئوي**

$$^{\circ}\text{م} = \frac{5}{9} \times (\text{ف} - 32)$$

2. من المقياس **المئوي** الى المقياس **الفهرنهايتي**

$$\text{ف} = 32 + \left( ^{\circ}\text{م} \times \frac{9}{5} \right)$$

3. من المقياس **المئوي** الى المقياس **المطلق**

$$\text{كلفن (K)} = ^{\circ}\text{م} + 273.15$$

**مثال:**

إذا كانت درجة حرارة الجو تساوي 20 م°  
درجة مئوية، كم تساوي درجة الحرارة؟

1. بالمقياس **الفهرنيتي**

ف° ؟؟؟؟؟؟؟؟؟؟؟

2. بالمقياس **المطلق**

كلفن (K) ؟؟؟؟؟؟؟؟؟

# الحل:

1. من المقياس **المئوي** الى المقياس **الفهرنهايتي**

$$20 = ^\circ\text{م}$$

$$32 + \left( ^\circ\text{م} \times \frac{9}{5} \right) = \text{ف}^\circ$$

$$32 + \left( 20 \times \frac{9}{5} \right) =$$

$$= \text{68 درجة فهرنهايتي}$$

2. من المقياس **المئوي** الى المقياس **المطلق**

$$20 = ^\circ\text{م}$$

$$\text{كلفن (K)} = \text{م} + 273.15$$

$$273.15 + 20 =$$

$$= 293.15 \text{ درجة مطلقة}$$

## Temperature Conversion Formulas

Conversion	Formula	Example
Celsius to Kelvin	$K = C + 273$	$21^{\circ}\text{C} = 294 \text{ K}$
Kelvin to Celsius	$C = K - 273$	$313 \text{ K} = 40^{\circ}\text{C}$
Fahrenheit to Celsius	$C = (F - 32) \times 5/9$	$89^{\circ}\text{F} = 31.7^{\circ}\text{C}$
Celsius to Fahrenheit	$F = (C \times 9/5) + 32$	$50^{\circ}\text{C} = 122^{\circ}\text{F}$

# طرق انتقال الحرارة

تنتقل الحرارة من مكان الى آخر بطريقة او أكثر من الطرق التالية:

## 1. طريقة التوصيل Conduction

انتقال الحرارة من الطرف الساخن الى الطرف البارد من موصل معدني يتم بازياد الطاقة الحركية للجزيئات الساخنة وتزداد معها سرعة اهتزازها مما يؤدي الى تصادمها مع الجزيئات القريبة منها لتنتقل الطاقة الى الجزيئات الباردة لتكسبها طاقة. (تحتاج لوسط مادي لانتقالها)

## 2. طريقة الحمل Convection

تحدث عملية انتقال الحرارة بواسطة الحمل نتيجة اختلاف كثافة الوسط نتيجة تسخين الوسط (تقل الكثافة بسبب ازدياد الحجم) ، الجزيئات الاسخن ذات كثافة اقل فترتفع للأعلى مسببة تيارات حمل تعمل على انتقال الحرارة من مكان لآخر. (تنتقل من خلال نفس الوسط)

## Radiation

### 3. طريقة الاشعاع

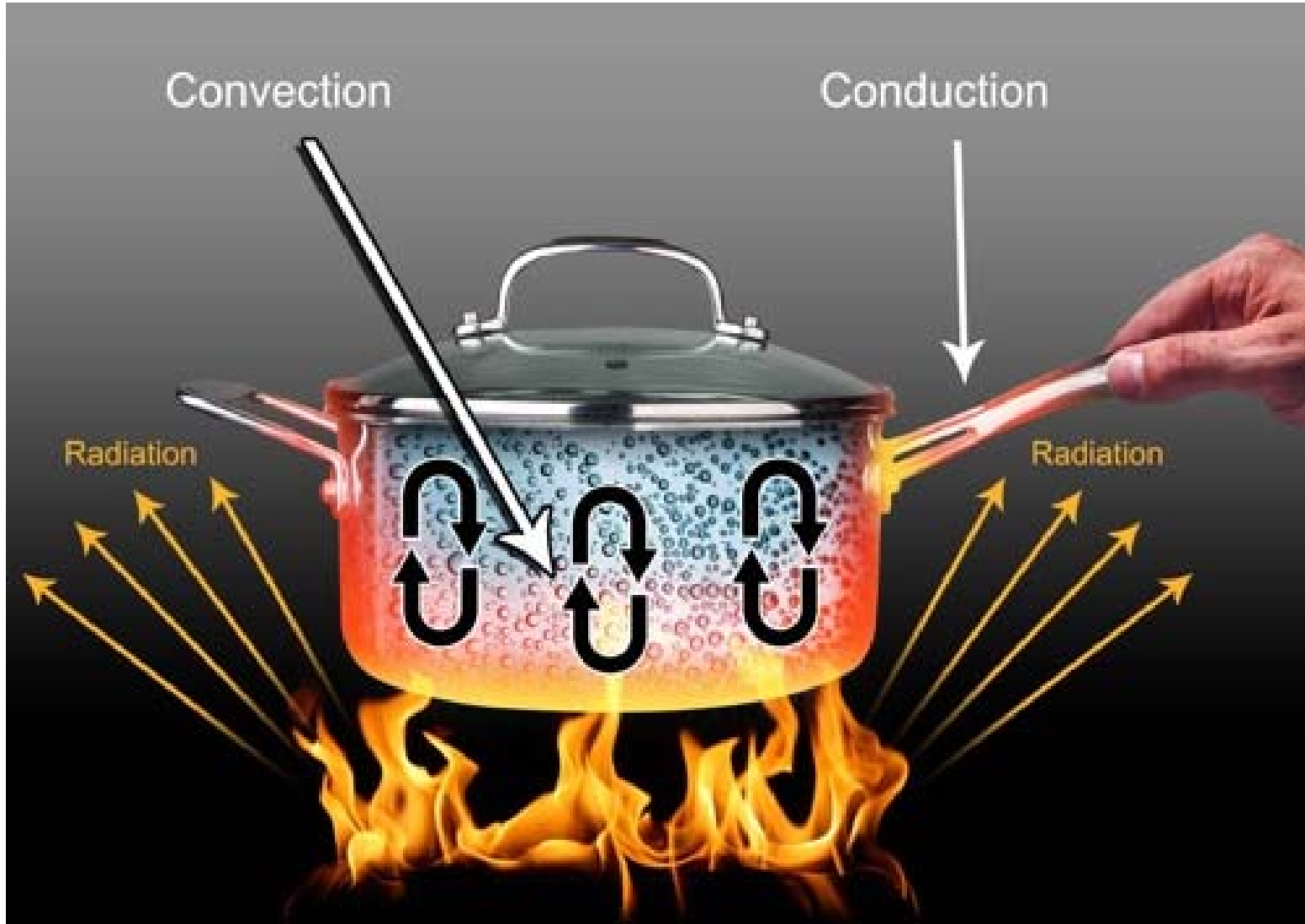
هي اسرع طرق انتقال الحرارة وهي نفس سرعة الضوء،  
(لا تحتاج لوسط مادي لانتقالها).

عند امتصاص الاجسام للموجات الكهرومغناطيسية القادمة من الشمس فانها تتحول الى موجات كهرومغناطيسية ذات طاقة مساوية لطاقة الاشعة تحت الحمراء.

عندما تمتص الاجسام اشعة الشمس تحولها الى موجات كهرومغناطيسية ذات تردد او طاقة تقع في مدى الاشعة تحت الحمراء أي الحرارة.



# • الاشعاع، التوصيل الحراري او الحمل.



# مصادر الطاقة المتجددة **Renewable Energy Sources**

هناك نوعين من مصادر الطاقة:

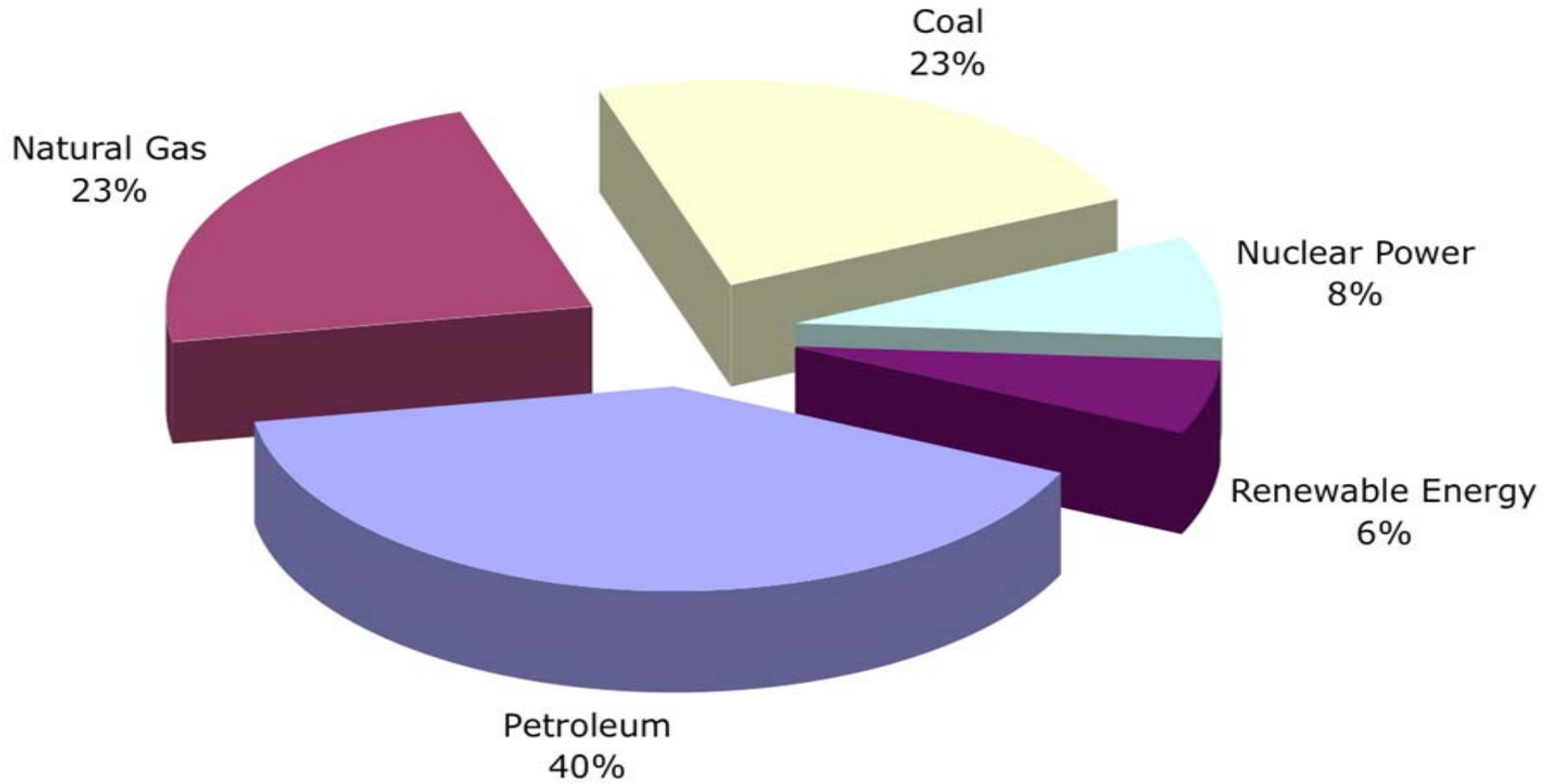
1. مصادر غير متجددة (تقليدية) Fossil Fuel

الغاز الطبيعي، البترول والفحم

2. مصادر متجددة (غير تقليدية)

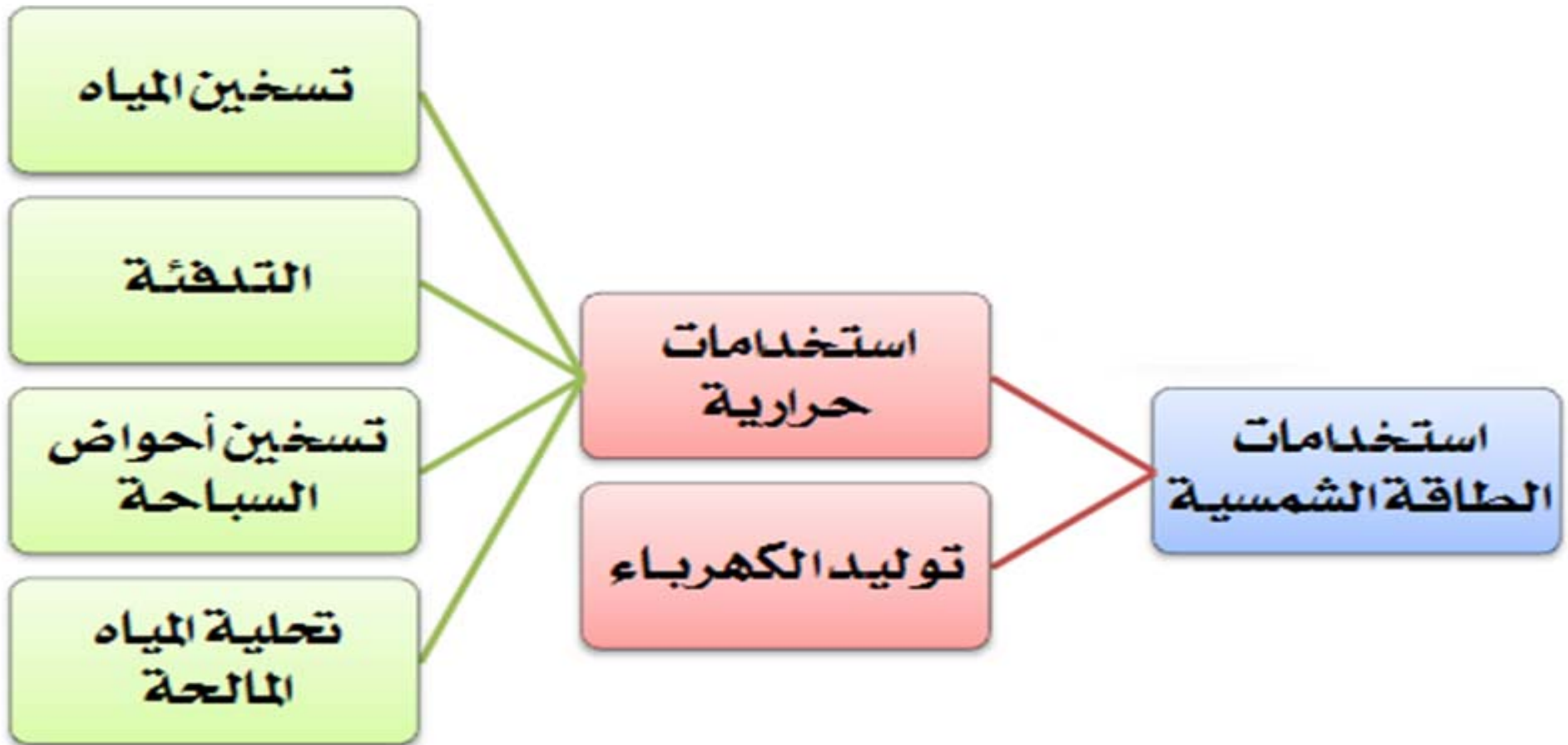
# مصادر الطاقة ونسبة الاستخدام ؟؟؟؟

86% of Energy Consumption Is Fossil Fuels



# Renewable Energy Sources مصادر الطاقة المتجددة

## 1. الطاقة الشمسية Solar Energy



# 1. الطاقة الشمسية واستخداماتها (استخدامات حرارية)



## مجمعات مسطحة

# 1. الطاقة الشمسية واستخداماتها (استخدامات كهربائية)



توليد الطاقة الكهربائية من الأشعة الشمسية

# تخزين الطاقة الشمسية

تخزين الحرارة المحسوسة يتم عادة بعدة طرق منها:

• تنكات او خزانات الماء (مرافقة للمجمعات الشمسية)

• خزان الحجارة السوداء

• التخزين بواسطة الحرارة الكامنة (التخزين بواسطة تغيير الحالة

الفيزيائية للمادة)، ولها شروط:

1. يجب ان تكون درجة حرارة التحول اقل ما يمكن وأن تكون كمية حرارة التحول أكبر ما يمكن

2. تغير الحجم مع تغير الحالة الفيزيائية يجب أن يكون صغيرا

3. ان تكون المادة المستعملة قليلة التكاليف

أمثلة على هذه الانواع: **ملح النطرون** (درجة انصهارها = 34.5 مئوي) و

**املاح جلوبر** (درجة انصهارها = 23 مئوي)

# طرق اخرى لتخزين الطاقة الشمسية

- البطاريات
- ضخ المياه بواسطة مضخات تعمل على الطاقة الشمسية الى مستويات مرتفعة لتحويلها الى طاقة كامنه
- تحليل الماء للحصول على الهيدروجين (مصدر نظيف للطاقة)



## 2. تحويل الطاقة الميكانيكية الى طاقة كهربائية الطاقة الكهرومائية **Hydroelectric**



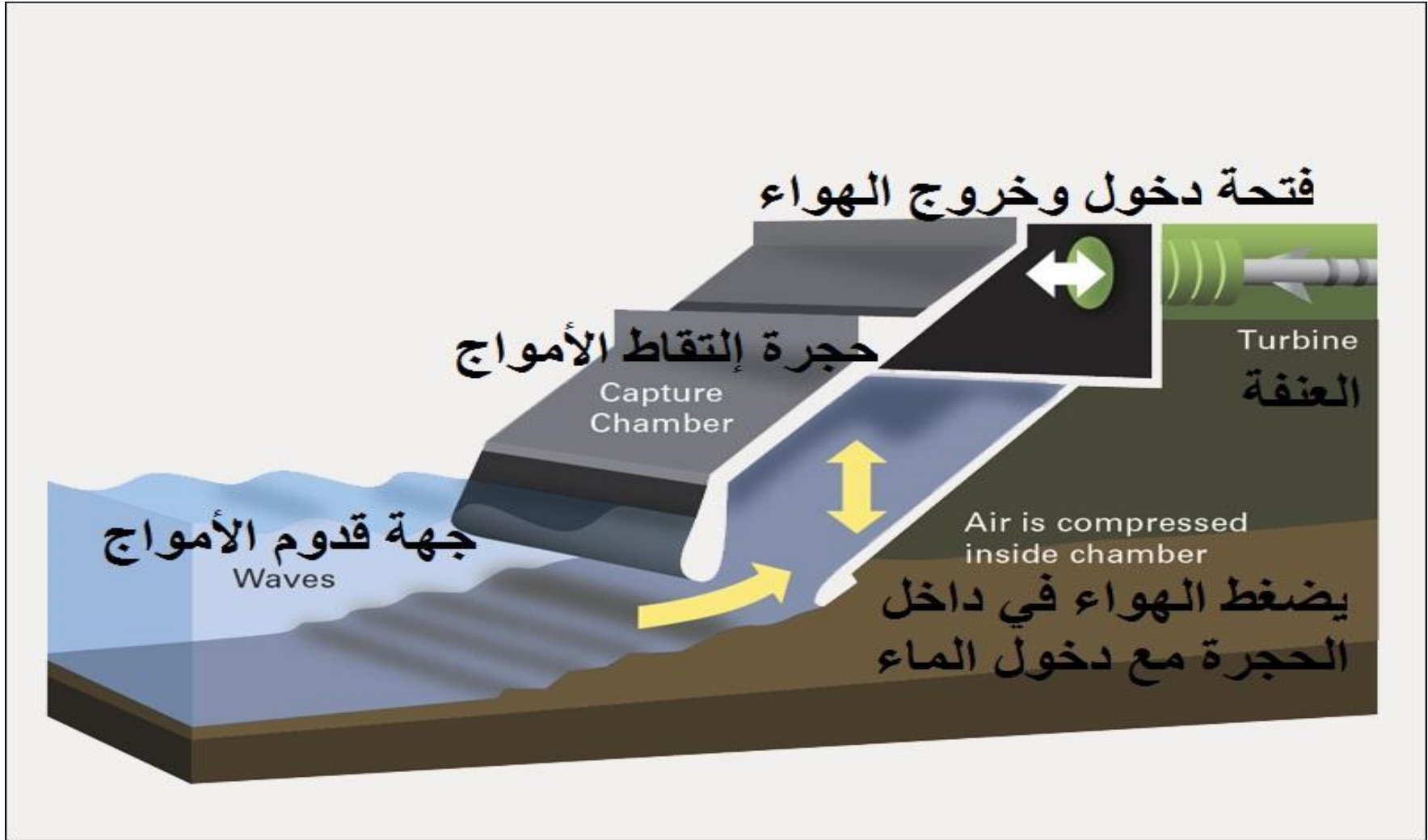
## 2. تحويل الطاقة الميكانيكية الى طاقة كهربائية

الطاقة من الرياح **Winds Energy**

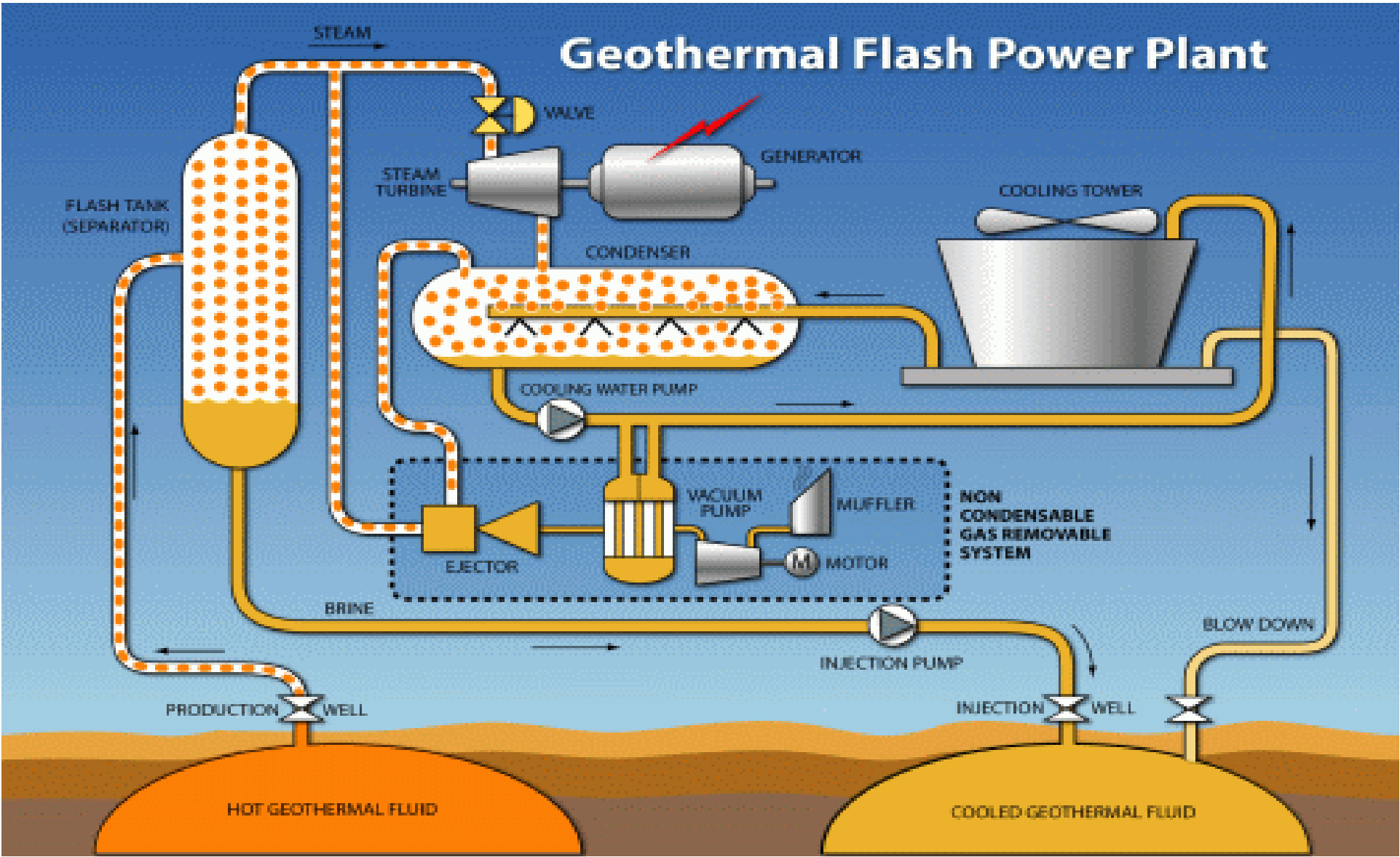


## 2. تحويل الطاقة الميكانيكية الى طاقة كهربائية

الطاقة من الامواج البحرية **Energy from Waves**



# 3. الطاقة الحرارية الارضية Geothermal Energy



# 4. الطاقة من الهيدروجين Energy from Hydrogen



from: Sprengel/Hoyer DLR

# 5. الطاقة من الانصهار النووي

## Energy from Nuclear Fusion

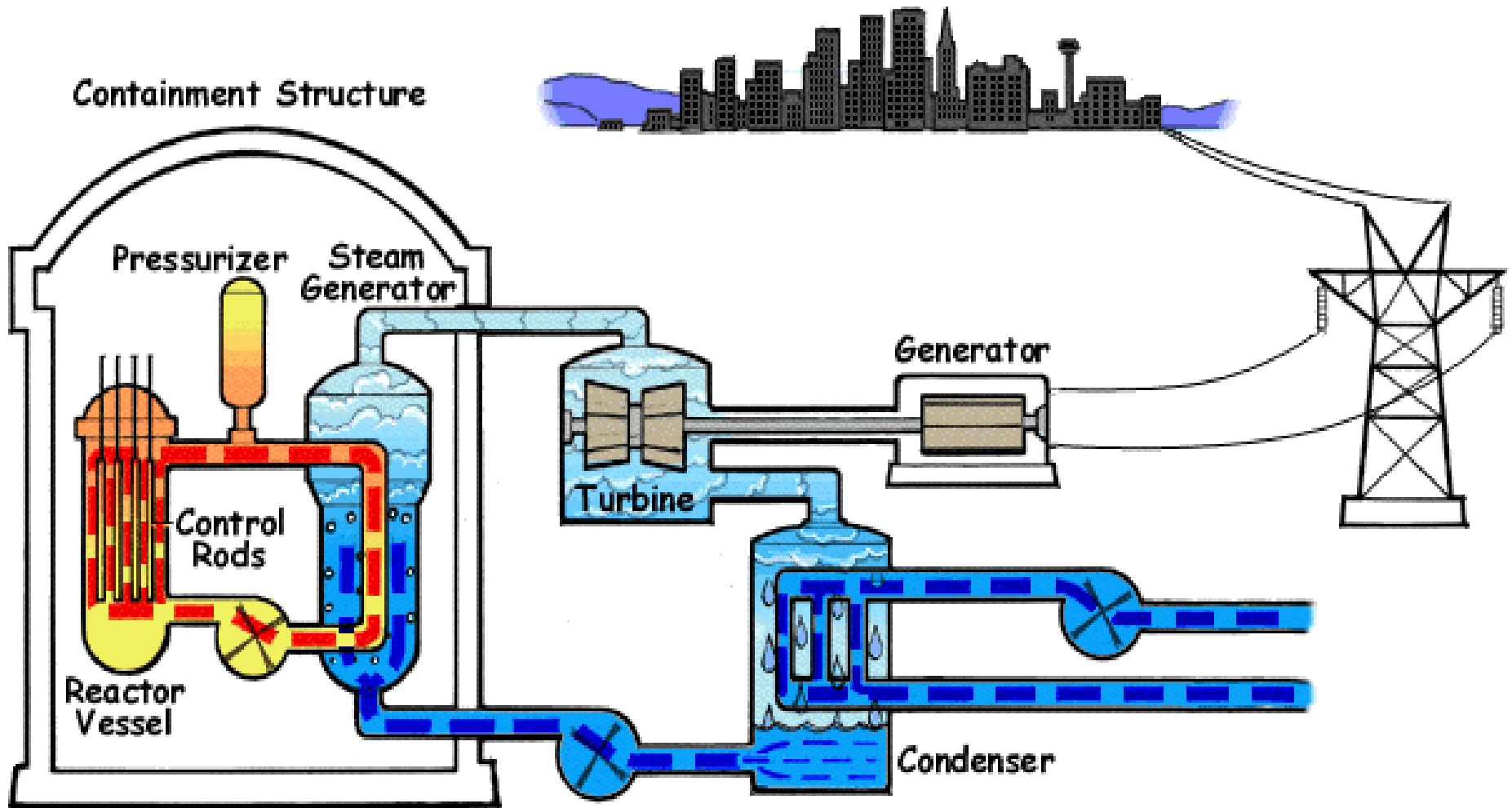
**تمتاز** الطاقة المتولدة من الاندماج النووي بما يلي:

- مصادرها لا تنضب وهي المياه
- نواتجها مستقرة ولا تلوث البيئة

تتولد الطاقة بالاندماج النووي لنظائر الهيدروجين (الديتيريوم و التريتيوم)

من **مساوئها** انها مكلفة جدا وتتطلب هذه التفاعلات درجات حرارة عالية جدا للتغلب على قوى التنافر بين الانوية المندمجة (تحتاج لنبضات من موجات الليزر المجمعمة لتتم العملية)

# الطاقة من الانصهار النووي Energy from Nuclear Fusion



## 6. الطاقة من المواد و المخلفات العضوية

### Biomass Energy

يمكن توليد الطاقة من استغلال المخلفات العضوية كالخشب والاعشاب ومخلفات المحاصيل الزراعية وفضلات الحيوانات بالاضافة الى النباتات سريعة النمو والطحالب وقصب السكر لانتاج **الكحول**.

**الوقود** الناتج قد يكون **صلبا** (كالاعشاب والاعشاب) أو **سائلا** (ميثانول أو ايثانول) أو **غازا عضويا**.

يمكن مثلا استخدام الوقود **السائل** (ميثانول أو ايثانول) في آلة الاحتراق الداخلي.



# 6. الطاقة من المواد والمخلفات العضوية Biomass Energy

